

【1】

年

クラス 氏名

点

(1) ヨーグルトが 10こ ありました。あさごはんの ときに 3こ たべました。 ひるごはんの ときに 4こ たべました。のこりは なんこに なったでしょう。

しき $\left(\quad \right)$ こたえ $\left(\quad \right)$

(2) バスに 10にん のって います。1つめの バスでいて 5にん おりました。2つめの バスでいて ふたり おりました。バスには なんにん のって いるでしょう。

しき $\left(\quad \right)$ こたえ $\left(\quad \right)$

(3) けいさんを しましょう。

① $8-2-3$

② $9-4-5$

③ $7-2-3$

④ $8-3-1$

⑤ $9-0-3$

⑥ $7-1-5$

(3)	①	
	②	
	③	
	④	
	⑤	
	⑥	

【2】

1 ^{おとこ}男の子が ^こ9人 ^{にん}います。^{おんな}女の子は 男の子より 5人 おおいです。

女の子は なんん人 いるかな。しきと こたえを かこう。

しき () こたえ ()

2 バイクが 9だい あります。じどう車^{しゃ}は バイクより 3だい おおいです。

じどう車は なんだい あるかな。しきと こたえを かこう。

しき () こたえ ()

3 ジャがいもが 6こ あります。ジャがいもは たまねぎより 4こ おおいです。

たまねぎは なんこ あるかな。

こたえ ()

4 ^{あか}赤い 花が 11本 さいて います。赤い 花は 青い 花より 6本 おおいです。


青い 花は なん本 さいて いるかな。

こたえ ()


【3】

1 なんじかな。


①



②




③




2 ながい はりと みじかい はりを かこう。


① 5じ



② 3じ




③ 10じ




【3】

3 なんじはんかな。


①



②



③



4 ながい はりを かこう。

① 2じ



② 5じはん



③ 9じ

